

Prénom :

## Diplôme 3

### Les nombres jusqu'à 19



1


2

3

4

5





Prénom : \_\_\_\_\_

Compte dans chaque case tous les animaux et entoure le nombre correspondant.

1 2 3 4 5 6 7 8 9 10 11 12 13 14 15 16 17 18 19

1 2 3 4 5 6 7 8 9 10 11 12 13 14 15 16 17 18 19





1 2 3 4 5 6 7 8 9 10 11 12 13 14 15 16 17 18 19

1 2 3 4 5 6 7 8 9 10 11 12 13 14 15 16 17 18 19



Prénom : \_\_\_\_\_

Finis de décorer le tableau.

			
<b>17</b>	<b>15</b>	<b>12</b>	<b>14</b>

The box contains the following shapes:

- 17 triangles: arranged in a 4x4 grid on the left, with one triangle at the bottom left.
- 15 squares: arranged in a 3x4 grid on the bottom right.
- 12 circles: scattered throughout the box.
- 14 rectangles: arranged in two rows of five at the top.



Prénom : \_\_\_\_\_

Complète.

		18	
--	--	----	--




	9		
--	---	--	--

14			
----	--	--	--



13			16
----	--	--	----

Range ces nombres du plus petit au plus grand.




11 - 5 - 3 - 15 - 9 - 14 - 6 - 17 - 19 - 2

2 - \_ - \_ - \_ - \_ - \_ - \_ - \_ - \_

Complète.

1			11
2			
3			

	20



Combien y a-t-il d'insectes ?

 <input type="text"/>	 <input type="text"/>	 <input type="text"/>	 <input type="text"/>
 <input type="text"/>	 <input type="text"/>	 <input type="text"/>	 <input type="text"/>
 <input type="text"/>	 <input type="text"/>	 <input type="text"/>	 <input type="text"/>

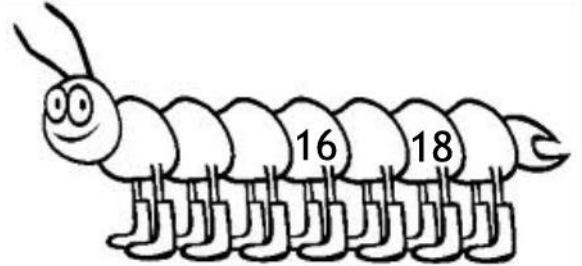

Complète les ensembles.

 <input type="text"/>	 <input type="text"/>	 <input type="text"/>	 <input type="text"/>
 <input type="text"/>	 <input type="text"/>	 <input type="text"/>	 <input type="text"/>



Prénom : \_\_\_\_\_

Complète.



Ecris le nombre qui vient juste avant et juste après.

	5	
--	---	--

	19	
--	----	--

	4	
--	---	--

	13	
--	----	--

	1	
--	---	--

	11	
--	----	--

	6	
--	---	--

	17	
--	----	--

	8	
--	---	--

Colorie le plus grand nombre en jaune.

